



↳ Les différentes représentations du monde

- Sur notre planète, il y a de grandes étendues de terres que l'on appelle des continents. Tous les scientifiques ne les comptent pas de la même façon. Sur le site : <http://fr.wikimini.org/wiki/Continent>, on te présente diverses propositions de comptage. Il va t'aider à répondre aux questions suivantes.

Que veut dire le mot continent ?

**Un continent est une grande étendue de terrain à la surface de la Terre.**

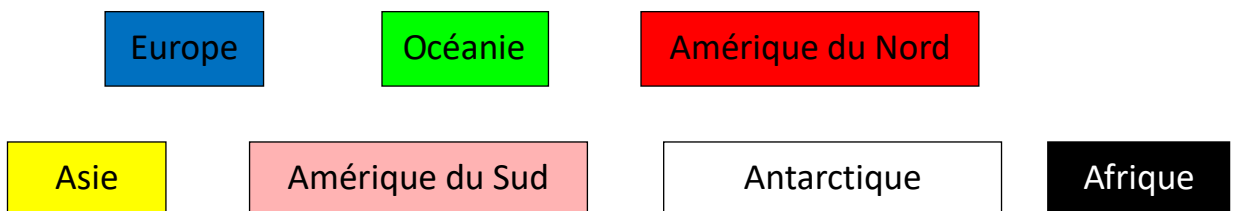
Suivant la méthodologie choisie par les scientifiques, il y a de **4 à 7** continents.

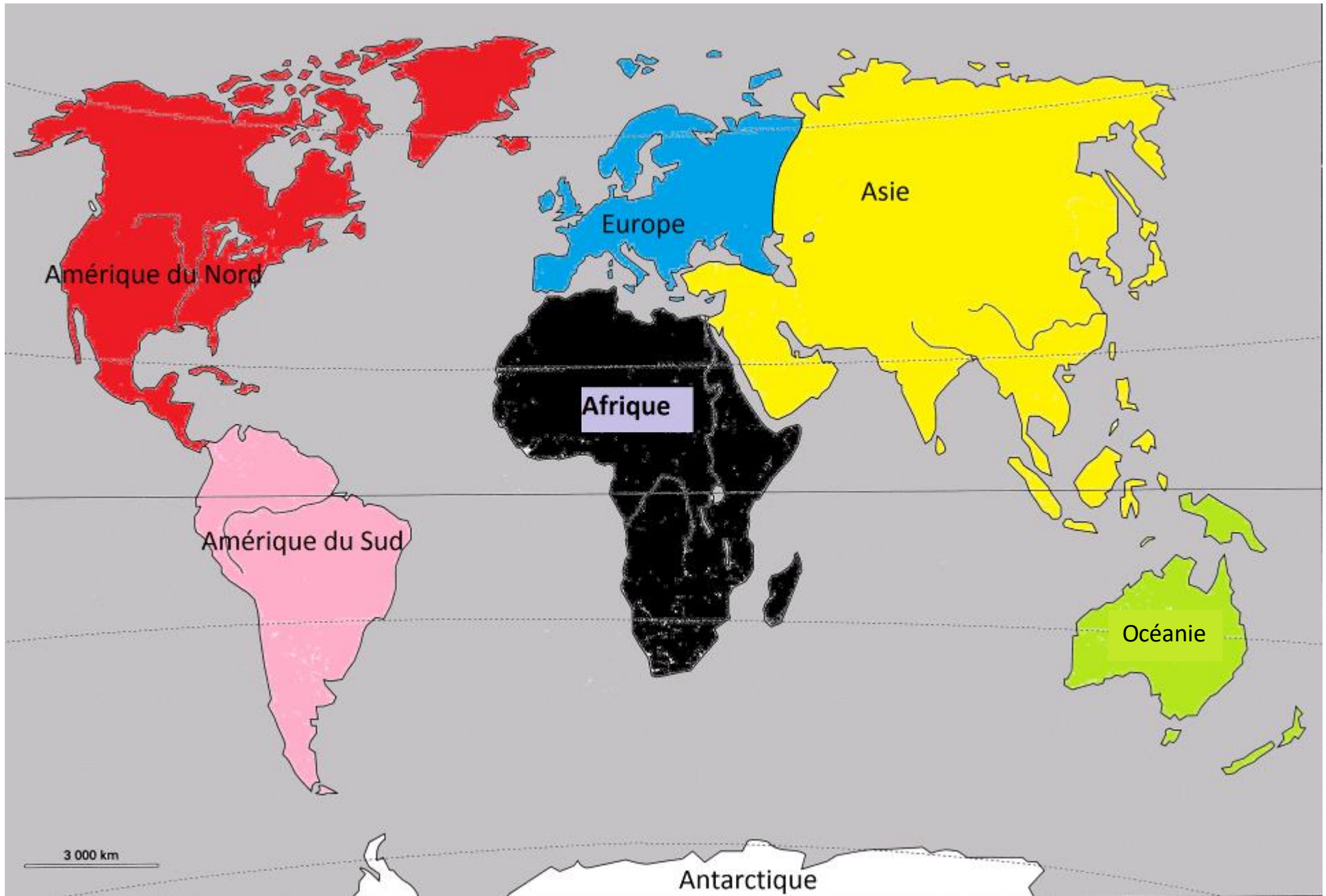
Pourquoi les scientifiques ne sont-ils pas tous d'accord sur le nombre de continents ?

**La notion même de continent peut changer s'y l'on décide de les compter à partir des plaques tectoniques, de la géopolitique, de la géographie physique, des ethnies...**

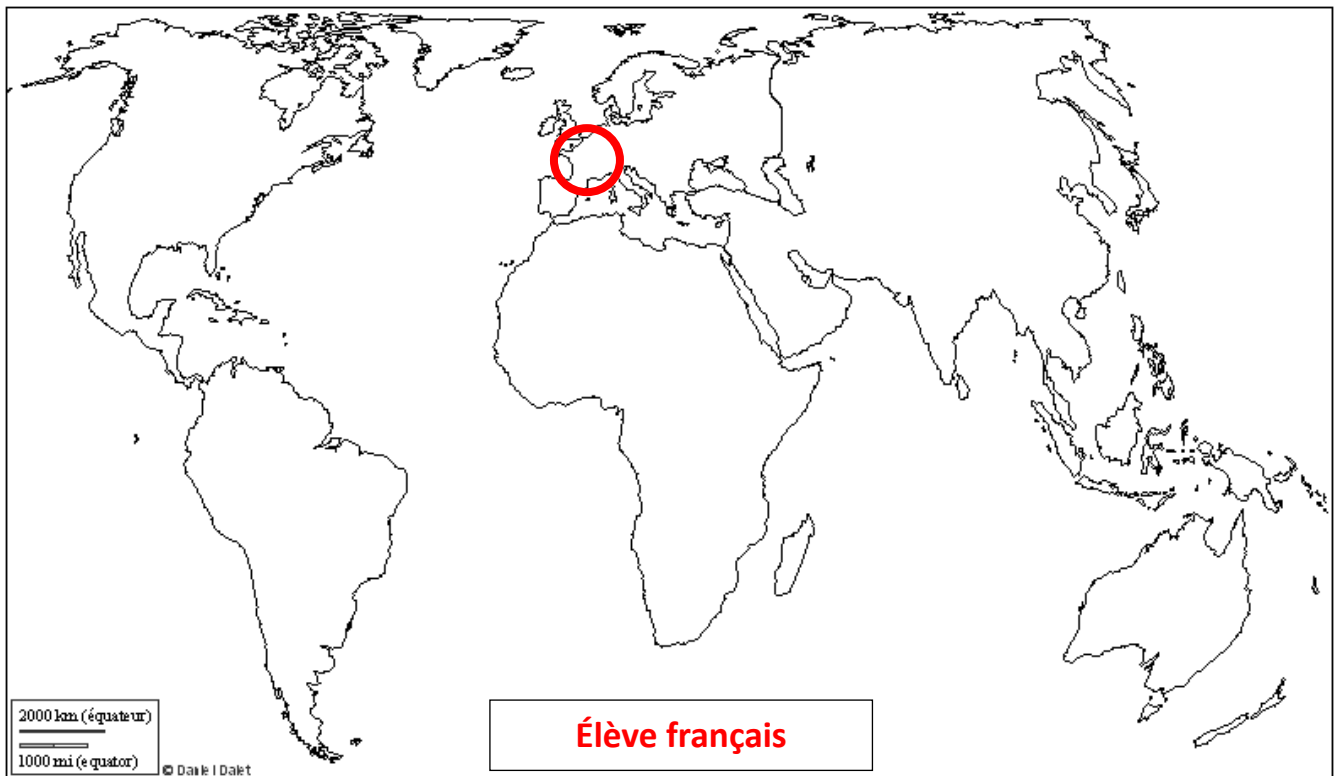
- En vous aidant du modèle à 7 continents trouvé sur le site Wikimini, colorie la carte ci-dessous en utilisant le code couleur des étiquettes suivantes. Pour réaliser ce travail, colle la carte dans un logiciel tel que "Paint" par exemple. Tu devras de plus compléter ta carte en écrivant le nom des continents. Pour finir, remplace la carte vierge par ton travail colorié et légendé.

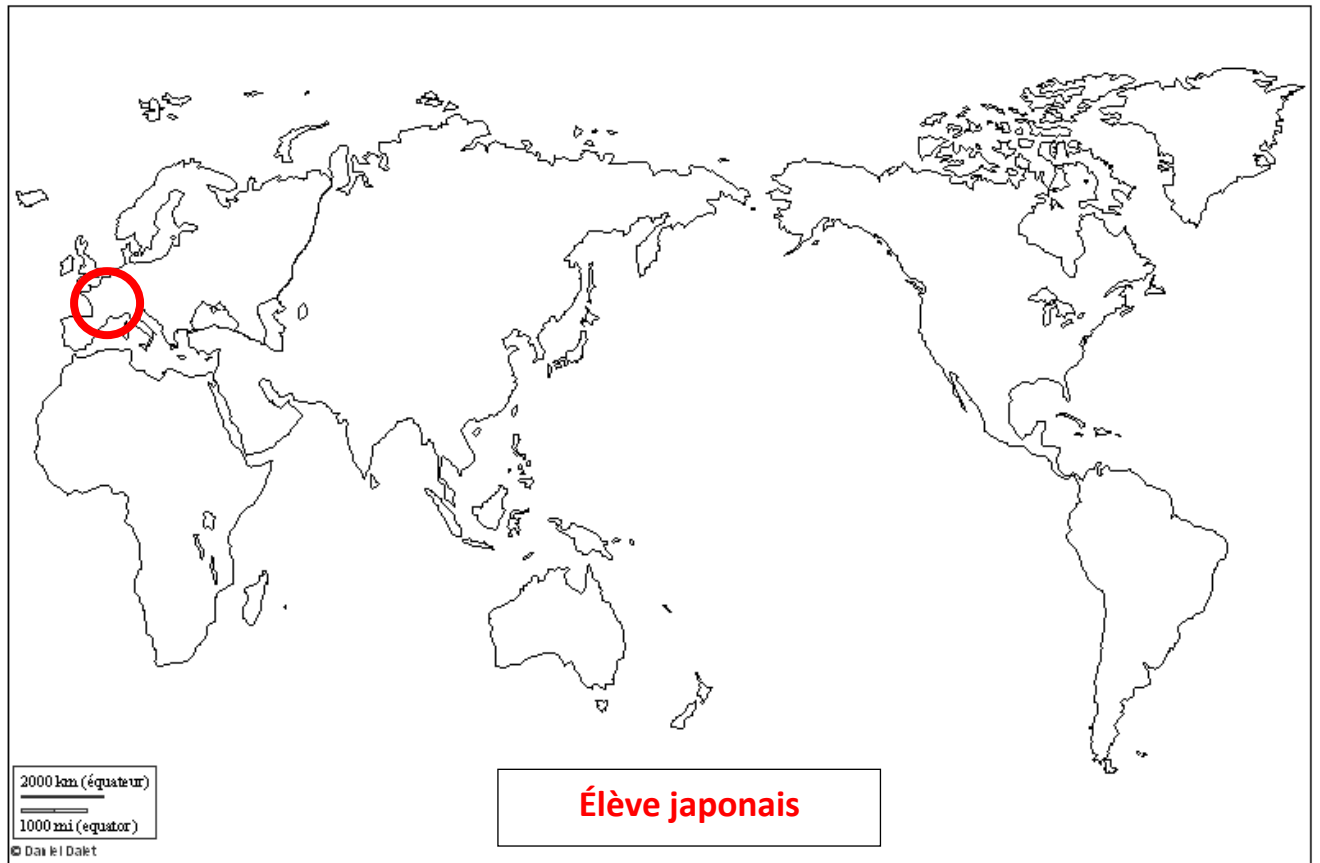
🌀 Tutoriel Utiliser le logiciel Paint





- Voici des planisphères trouvés dans des livres de géographie d'un élève américain, un élève français et un élève japonais.





© histgeo.ac-aix-marseille.fr

1. Ecris la définition d'un planisphère :

**Un planisphère est une carte géographique représentant la Terre à plat.**

2. Sur chaque carte, entoure la France. Est-elle toujours représentée au même endroit de la carte ?

 **Tutoriel Insérer des formes**

3. Écris dans chaque cadre de quel livre de géographie provient cette carte.

4. Nous habitons tous sur la même planète. Comment expliquer que nous n'ayons pas les mêmes cartes pour représenter la Terre ?

**Les géographes d'un continent ont pris l'habitude de mettre leur continent au centre des planisphères. Aussi, les cartes sont différentes si on est européen, asiatique ou américain.**



## Ici et ailleurs, un monde de diversité

Cycle 3

### Géographie

### Activité 2

#### 👉 Trouver des drapeaux de pays des 5 continents

➤ Voici sur le site suivant la galerie des drapeaux des pays du monde :

[https://fr.wikipedia.org/wiki/Galerie\\_des\\_drapeaux\\_des\\_pays\\_du\\_monde](https://fr.wikipedia.org/wiki/Galerie_des_drapeaux_des_pays_du_monde)

et la carte du monde :

<http://www.cartograf.fr/images/map/monde->

[pays/carte\\_mondiale\\_politique\\_tres\\_grandes\\_villes.gif](http://www.cartograf.fr/images/map/monde-pays/carte_mondiale_politique_tres_grandes_villes.gif)

Trouve trois drapeaux de pays pour les continents du tableau ci-dessous.

Tu copieras le drapeau dans une case et tu noteras le nom du pays en dessous.


EUROPE	AMERIQUE	AFRIQUE	ASIE	OCEANIE
 Finlande	 Argentine	 Afrique du Sud	 Laos	 Australie
 Belgique	 Cuba	 Côte d'Ivoire	 Corée du Sud	 Nouvelle Zélande
 Portugal	 Paraguay	 Bahreïn	 Singapour	 Papouasie – Nouvelle Guinée

➤ Un drapeau un peu spécial :

Il existe un drapeau qui, pour certains, représente les pays des cinq continents et que l'on voit tous les quatre ans, soit en hiver, soit en été.

Quel est-il ? **C'est le drapeau olympique.**

Dessine-le ci-dessous grâce aux outils proposés par le traitement de texte (insertion de formes ou module dessin).





### ↳ Les climats du monde

➤ Il ne fait pas le même temps dans tous les pays du monde. Les climats varient en fonction de la position du pays sur la Terre. La vidéo suivante va te permettre d'en apprendre un peu plus sur les différents climats terrestres.

Regarde-la bien, plusieurs fois si nécessaire, car cela t'aidera à répondre aux questions suivantes.

[http://www.dailymotion.com/video/x82quf\\_climats-du-monde\\_tech](http://www.dailymotion.com/video/x82quf_climats-du-monde_tech)

Barre les propositions fausses.

- ~~1. Les climats sont et resteront toujours les mêmes au fil du temps.~~
2. Il existe plusieurs méthodes pour classer les climats.
3. Dans la vidéo, ils ont choisi la méthode qui classe les climats en :  
~~trois catégories~~                      quatre catégories                      ~~cinq catégories~~
4. Le climat est appelé froid quand la terre reste gelée plus de trois mois par an.
5. Le climat tempéré se décline en plusieurs types mais lesquels ?  
méditerranéen                      ~~équatorial~~                      océanique  
~~humide~~                      ~~tropical~~                      continental
6. Dans les zones au climat sec, il ne pleut pratiquement jamais.
- ~~7. Autour de l'Équateur, il y a des saisons qui changent au cours de l'année.~~
8. Les plus importantes zones de regroupements humains sont dans les zones de climat :  
tempéré                      ~~sec~~                      ~~froid~~                      chaud et humique
9. Le climat influence les zones d'habitat humain mais l'eau est encore plus importante pour déterminer le lieu des installations humaines.
10. La France est dans une zone de climat :



tempéré

sec

froid

chaud et humide

➤ Place sur la carte de la page 3 les étiquettes suivantes :

Tropique du capricorne

Hémisphère sud

Cercle polaire antarctique

Équateur

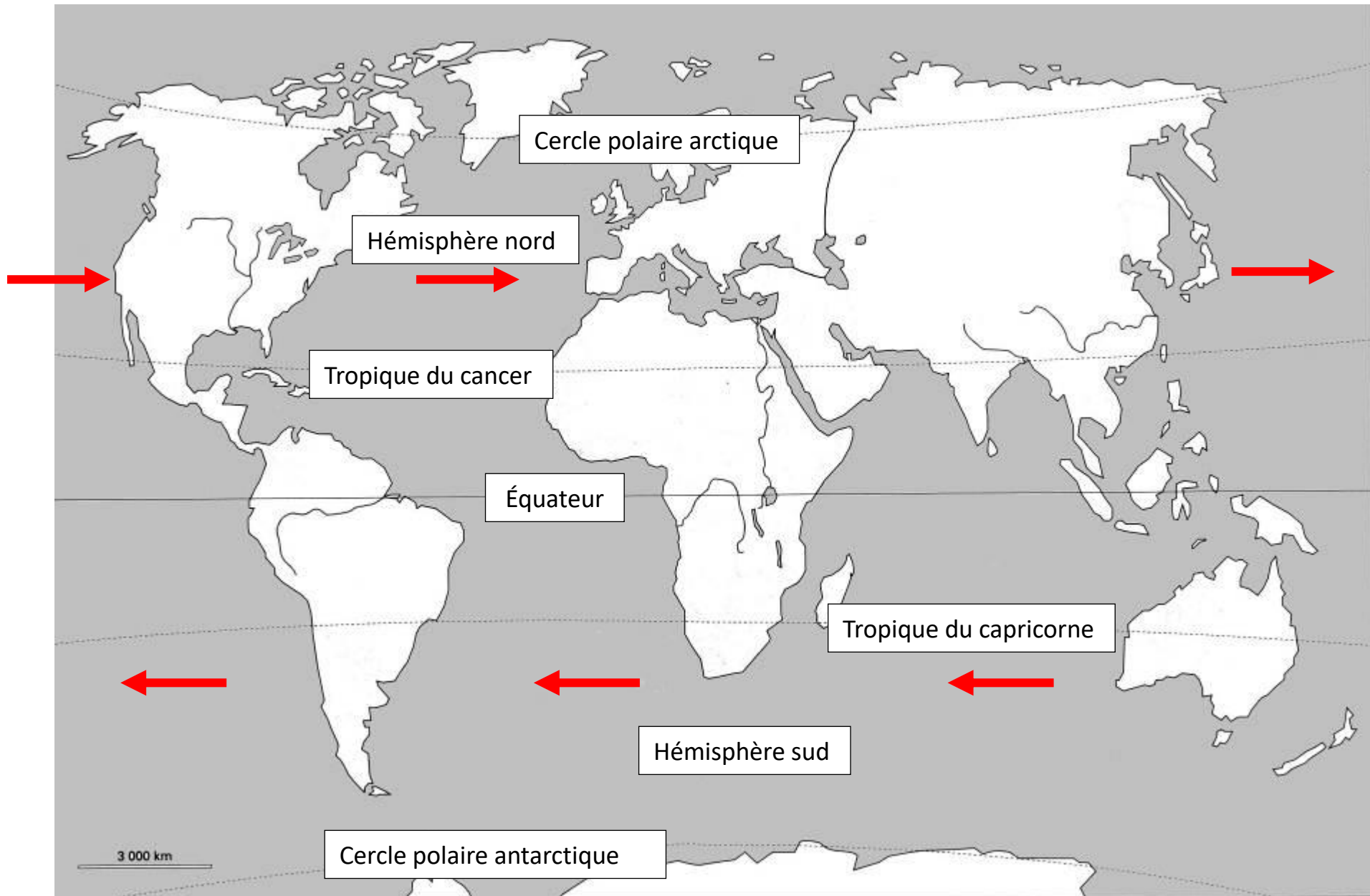
Hémisphère nord

Cercle polaire arctique

Tropique du cancer

Enfin, indique par des flèches le sens des vents dominants dans chaque hémisphère.

Tutoriel [Dessiner une flèche ou une ligne](#)





↪ La démographie des 5 continents

➤ Voici le nombre d'habitants de chaque continent en 2015.

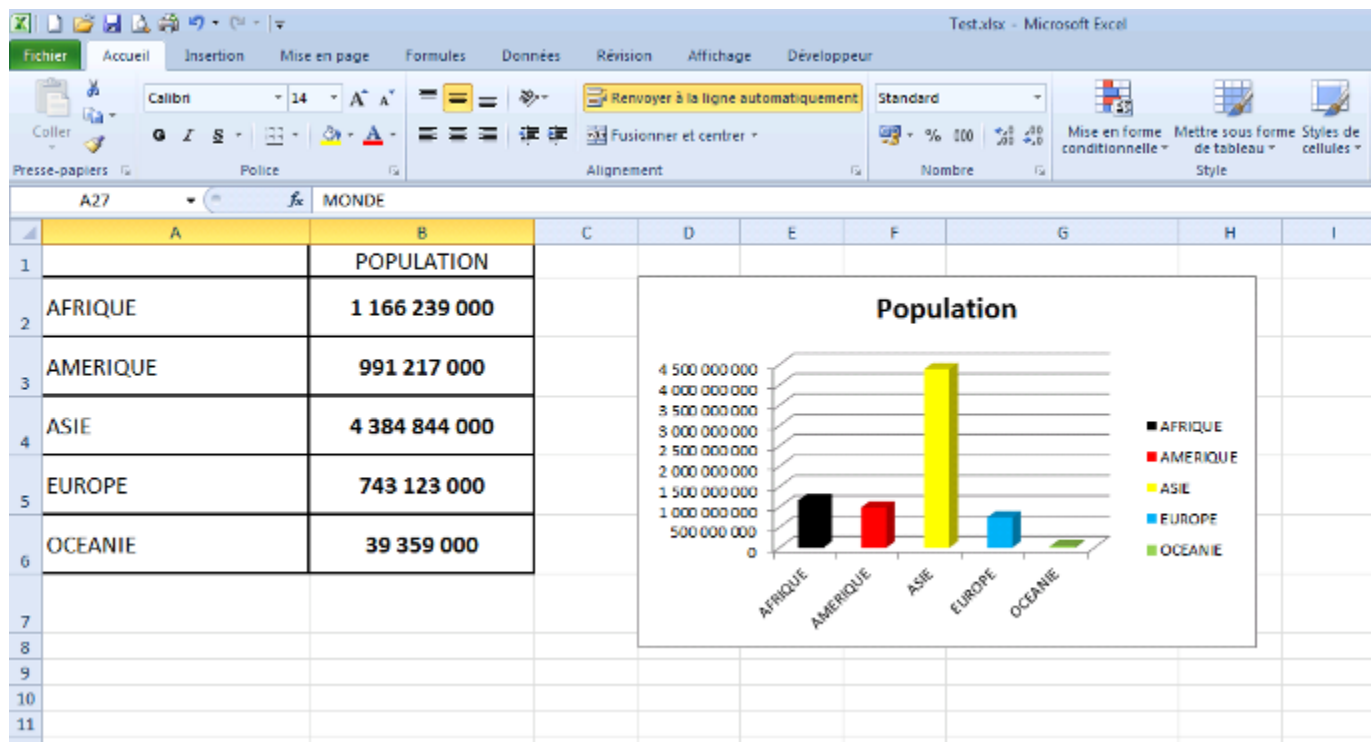
	POPULATION
AFRIQUE	1 166 239 000
AMERIQUE	991 217 000
ASIE	4 384 844 000
EUROPE	743 123 000
OCEANIE	39 359 000

Source : Institut National d'Etudes Démographiques  
(<http://www.ined.fr/fr/tout-savoir-population/chiffres/tous-les-pays-du-monde/>)

Dans un tableur (Excel ou Calc), recopie ce tableau en commençant dans la cellule A1. Attention, il faut qu'il soit présenté comme celui-là. (N'oublie pas les bordures !)

1. Comme les vrais démographes et grâce au tableur, trace un graphique en colonnes des données présentes dans le tableau.

 Tutoriel Faire un graphique à l'aide d'un tableur



2. Ensuite, complète la colonne A en ajoutant dans la cellule A7 le mot MONDE.

Dans la cellule B7, utilise la formule SOMME du tableur pour calculer automatiquement la population mondiale.

 [Tutoriel Faire une somme à l'aide d'un tableur](#)

Pour finir, renvoie-nous le fichier que tu auras fait avec le tableur.

